

Área para rascunho e anotações:

LÍNGUA PORTUGUESA

Texto para as questões de 1 a 6:

O pintinho

Carlos Drummond de Andrade

Foi talvez de um filme de Walt Disney que nasceu a moda de enfeitar com pintinhos vivos as mesas de aniversário infantil. Era uma excelente ideia, no mundo ideal do desenho animado; conduzida para o mundo concreto dos apartamentos, também alcançou êxito absoluto. Muitos garotos e garotas jamais tinham visto um pinto de verdade, e queriam comê-lo, assim como estava, imaginando ser uma espécie de doce mecânico, mais saboroso. Houve que contê-los e ensinar-lhes noções urgentes de biologia. As senhoras e moças deliciaram-se com a surpresa e gula dos meninos, e foram unânimes em achar os pintos uns amorecos. Mas estes, encurralados num centro de mesa, entre flores que não lhes diziam nada ao paladar, e **atarantados por aquele rumor festivo e suspeito**, deviam sentir-se absolutamente desgraçados.

Como a celebração do aniversário terminasse, e ninguém sabia o que fazer com os pintos, pareceu à dona da casa que seria gentil e cômodo oferecer um a cada criança, transferindo assim às mães o problema do destino a dar-lhes. O único inconveniente da solução era que havia mais guris do que pintos, e não foi simples convencer aos não contemplados que aquilo era brincadeira para guris ainda bobinhos, e que **mocinhas e rapazinhos de nível mental superior não se preocupam com essas frioleiras**.

Os pintos, em consequência, espalharam-se pela cidade, cada qual com seu infortúnio e seu proprietário exultante. O interesse das primeiras horas continuava a revestir-se de feição ameaçadora para a integridade física dos recém-nascidos (se é que pinto produzido em incubadora realmente nasce). Um deles foi parar num apartamento refrigerado, e posto a um canto da copa, sobre uma caixinha de papelão forrada de flanela. Semeou-se em redor o farelinho malcheiroso que o gerente do armazém recomendara como alimento insubstituível para pintos tenros, e que (o pai leu na enciclopédia) devia ser, teoricamente, farinha de baleia. A ideia da baleia alimentando o pinto encheu o garotinho de assombro, e pela primeira vez o mundo lhe apareceu como um sistema. O pinto sentia um frio horroroso, mas desprezava a flanela, e a todo instante se descobria, tentando fugir. Procurava algo que ele mesmo não sabia se era calor da galinha ou da criadeira. À falta de experiência, dirigiu seus passinhos na direção das saias que circulavam pela copa. As saias nada podiam

fazer por ele, senão recolocá-lo em seu ninho, mas o pinto procurava sempre, e piava. O garoto queria carregá-lo, inventava comidas que talvez interessassem àquele paladar em formação. Não senhor - explicou-lhe a mãe:

- Não se pode pegar, não se pode brincar, não se pode dar nada, a não ser farelo e água.

- Nem carinho?

- **Meu amor, carinho de gente é perigoso para bicho pequeno.**

Mas o pinto, mesmo sem saber, estava querendo era um palmo sujo de terra, com insetos e plantas comestíveis, o raio de sol batendo na poça d'água caída do céu, e companhia à sua altura e feição, e, numa casa assim tão bonita e confortável, esses bens não existiam. E piava.

A situação começou a preocupar a dona da casa, que telefonou à amiga doadora do pinto: que fazer com ele?

- Querida, procure criá-lo com paciência, e no fim de três meses bote na panela, antes que vire galo. É o jeito.

Não virou galo, nem caiu na panela. No fim de três dias, piando sempre e sentindo frio, o pinto morreu. Foi sua primeira e única manifestação de vida, propriamente dita.

O menino queria guardá-lo consigo, supondo que, inanimado, o pinto se transformara em brinquedo, manuseável. Foi chamado para dentro, e quando voltou o corpinho havia desaparecido na lixeira.

(In: *Para gostar de ler – Crônica*. São Paulo: Ática, 2007. v.1)

1. Analise as proposições seguintes:

- I. A responsável pela festa de aniversário tinha como prioridade o sucesso do evento.
- II. O menino queria dar atenção ao pintinho, mas não obteve o apoio da mãe.
- III. O texto descreve uma nova moda de decoração de mesas de festas de aniversário infantis.
- IV. A decoração da festa narrada foi influência dos filmes de Walt Disney.

Sobre as proposições acima, é CORRETO dizer que:

- A) I, II, III e IV estão corretas.
- B) I, II e IV estão corretas.
- C) I, II e III estão corretas.
- D) apenas III e IV estão corretas.
- E) apenas IV está correta.

2. “Meu amor, carinho de gente é perigoso para bicho pequeno”.

No contexto em questão, percebemos como mais evidente na história:

- A) carinho do adulto pelo mundo da criança.
- B) respeito à vida, pelo modo como se tratou dos pintinhos na festa.
- C) preocupação com o meio ambiente e com a natureza, por isso o destino do pintinho tinha que ser a lixeira.
- D) ironia, como recurso do escritor para expressar sua reflexão sobre a história.
- E) criatividade, pois a decoração com pintinhos revelou êxito absoluto da festa.

3. Em “(...) **atarantados** por aquele rumor festivo e suspeito (...)”, a palavra em destaque significa:

- A) preocupados.
- B) encantados.
- C) interessados.
- D) animados.
- E) desnorteados.

4. “(...) mocinhas e rapazinhos de nível mental superior não se preocupam com essas **frioleiras**”.

A palavra em destaque só NÃO pode ser substituída por:

- A) festividades.
- B) insignificâncias.
- C) besteiras.
- D) bobagens.
- E) ninharias.

5. “Foi **talvez** de um filme de Walt Disney que nasceu a moda de enfeitar com pintinhos vivos as mesas de aniversário infantil”. O emprego da palavra “talvez” está representando na frase um sentido de:

- A) certeza.
- B) dúvida.
- C) afirmação.
- D) conclusão.
- E) consequência.

6. Alguns casos de acentuação gráfica, extraídos do texto:

I. “Física”, “êxito” e “mecânico” recebem acento gráfico, porque são palavras proparoxítonas.

II. “Infortúnio”, “consequência” e “enciclopédia” são paroxítonas terminadas em ditongo aberto, por isso o acento gráfico.

III. “Comê-lo” e “criá-lo” são oxítonas terminadas em “E” e “A”, por isso recebem acento gráfico.

IV. “Céu” é um monossílabo tônico, terminado em U, o que exige o acento gráfico.

Analisadas as afirmações acima quanto às regras gramaticais, temos que:

- A) apenas I está correta.
- B) I e II estão corretas.
- C) I, II e III estão corretas.
- D) I e III estão corretas.
- E) todas estão corretas.

7. A concordância nominal para o caso de plural das palavras compostas está **INORRETA** apenas em uma alternativa. Assinale-a.

- A) vestidos azul-claros.
- B) vestidos azul-celeste.
- C) vestidos azul-marinhos.
- D) vestidos azul-escuros.
- E) vestidos azul-turquesa.

8. Ainda sobre a concordância nominal, analise os períodos abaixo e identifique a alternativa **CORRETA**:

- A) As cores vermelha e a amarela foram as únicas duas tonalidades selecionadas para o uniforme esportivo.
- B) Os índios continuavam ainda bem atento para novas invasões dos fazendeiros.
- C) Todas as planilhas solicitadas foram anexo ao relatório final.
- D) As horas extra do trabalho não seriam computadas no mesmo mês.
- E) Haja vista os primeiros resultados, ela não conseguiu a classificação.

9. Em se tratando de concordância verbal, assinale a alternativa que apresenta o período sem desvios das regras gramaticais:

- A) Afirmo que ainda existe, em nosso país, muitas crianças fora da escola.
- B) E haviam ainda muitos pratos e copos para serem lavados.
- C) Pelo que sabemos, vai fazer dois anos que eles moram no bairro vizinho.
- D) Infelizmente, já fazem seis meses que ela partiu da minha vida.
- E) Estamos certos de que vão haver mais doadores de medula para eles.

10. Um dos períodos abaixo apresenta um desvio gramatical, registrando um erro de concordância verbal. Assinale-o:

- A) Para a apresentação, procura-se homens humildes, honestos e solidários.
- B) Ainda se acredita em outros planetas com condições de vida humana.
- C) Foi dada a decisão, porque se trata de uma sindicância na empresa.
- D) Para a temporada, aluga-se casa mobiliada de frente para o mar.
- E) Aqui, obedece-se a leis e regras para a boa convivência em grande grupo.

MATEMÁTICA

11. Se m é igual a 82% de n e, n equivale a 17% de p , assim é correto afirmar que:

- A) m é igual a 13,94% de p
- B) m é igual a 0,1394% de p
- C) m é igual a 1,394% de p
- D) m é igual a 139,4% de p
- E) m é igual a 1394% de p

12. Na loja “Bello Lar” após dois aumentos consecutivos de 20% e 40%, respectivamente, um determinado sofá passou a custar R\$ 2.688,00. Assinale a alternativa que apresenta o valor deste produto antes dos dois aumentos e a porcentagem que representou este aumento.

- A) R\$ 1.650,00
- B) R\$ 1.700,00
- C) R\$ 1.600,00
- D) R\$ 1.725,00
- E) R\$ 1.690,00

13. Cleidiomar, funcionário de uma fábrica metalúrgica, viu em junho e julho de 2016, seu salário sofrer dois aumentos consecutivos de 10% e 20% e, em agosto do ano, foi obrigado a aceitar uma redução de 25% em seu salário. Assinale a alternativa que representa o que aconteceu com o salário de Cleidiomar.

- A) houve um aumento de 5%
- B) houve uma redução de 1%
- C) houve um aumento de 1%
- D) houve uma redução de 3%
- E) houve um aumento de 3%

14. Um liquidificador está sendo vendido nas seguintes condições de pagamento:

1. À vista no valor de R\$ 89,00, ou
2. Entrada de 10% do valor à vista + 10 prestações mensais, fixas e consecutivas de R\$ 11,00.

Nestas condições, o cliente que optar pelo pagamento à prazo estará sujeito à juros de $n\%$. Determine o valor aproximado de n .

- A) 33,6%
- B) 35,6%
- C) 31,6%
- D) 37,6%
- E) 29,6%

Leia atentamente a situação abaixo e, responda as questões 15 e 16:

“Sabemos que o tempo de viagem a uma velocidade média de 80 km/h é de 4 horas e 30 minutos”. Nestas condições, responda:

15. Se a velocidade média empregada for de 60 km/h, a viagem terá uma duração de:

- A) 5 horas e 40 minutos.
- B) 6 horas e 20 minutos.
- C) 6 horas e 40 minutos.
- D) 7 horas.
- E) 6 horas.

16. Se o tempo de viagem for de 3 horas e 36 minutos, a velocidade média empregada nesta viagem foi de:

- A) 110 km/h
- B) 90 km/h
- C) 100 km/h
- D) 115 km/h
- E) 120 km/h

17. Em um mega feirão de liquidação, determinado produto sofre dois descontos consecutivos de 60% e 10%, respectivamente. Assinale a alternativa que apresenta a porcentagem que representa este desconto.

- A) 64%
- B) 67%
- C) 70%
- D) 71%
- E) 73%

Leia atentamente a situação abaixo e, responda as questões 18 e 19: considere uma pizza no formato circular de raio igual a 25 cm , dividida em 8 fatias iguais, isto é, dividida em 8 partes congruentes. Sabendo que a cada 1 cm^2 desta pizza estão presentes 1,5 calorias, responda às questões associadas a estas condições:

Observação: Para estes cálculos, considere duas casas após a vírgula.



<https://encrypted-tbn3.gstatic.com/images>

18. Determine a área, em cm^2 , de 5 (cinco) fatias desta pizza. Considere $\pi = 3,14$.


- A) $1326,56\text{ cm}^2$
- B) $1226,56\text{ cm}^2$
- C) $1236,56\text{ cm}^2$
- D) $1428,56\text{ cm}^2$
- E) $1328,56\text{ cm}^2$

19. Determine a parte inteira do número que representa a quantidade de calorias presente em 6 (seis) fatias desta pizza. Considere $\pi = 3,14$.

- A) 2347
- B) 2211
- C) 2207
- D) 1997
- E) 2197

20. Conforme figura abaixo, assinale a alternativa que apresenta a área da moldura do porta retrato, sabendo que o mesmo comporta uma fotografia de dimensões $14\text{ cm} \times 24\text{ cm}$.

- A) 122 cm^2
- B) 120 cm^2
- C) 121 cm^2
- D) 123 cm^2
- E) 124 cm^2



Fonte: www.extra-imagens.com.br/

ESPECÍFICAS

21. A microfilmagem de um documento tem a vantagem de transferir o documento do arquivo ativo para o inativo e de proteção. Sendo um processo de reprodução fotográfica reduzida, podendo:

- A) Chegar a quase 95% documento original.
- B) Chegar a quase 92% do documento original.
- C) Chegar a quase 85% do documento original.
- D) Chegar a quase 88% do documento original.
- E) Chegar a quase 90% do documento original.

22. Assinale a alternativa que indica um método de proteção de documentos considerados vitais para a empresa, em caso de perda ou destruição inoportuna.

- A) Filmagem de documento vital e guarda em local seguro.
- B) Terceira via do documento vital e guarda em local seguro.
- C) Fotografia do documento vital e guarda em local seguro.
- D) Microfilmagem do documento vital e guarda em local seguro.
- E) Segunda via do documento e guarda em local seguro.

23. A centralização do arquivo em grandes empresas apresenta vantagens como:

- I. Eficiência.
- II. Espaço.
- III. Economia.
- IV. Uniformidade.
- V. Dispersão.

Assinale a alternativa que indica as afirmativas CORRETAS.

- A) Apenas as afirmativas I, IV e V estão corretas.
- B) Apenas as afirmativas I, II e V estão corretas.
- C) Apenas as afirmativas I, II e III estão corretas.
- D) Apenas as afirmativas I, III e V estão corretas.
- E) Apenas as afirmativas I, III e IV estão corretas.

24. Para uma boa estrutura de arquivo é necessário que se decida sobre o sistema de arquivamento que melhor se ajuste a empresa, podendo ser de três maneiras:

- I. Direto, Indireto ou Semi-direto.
- II. Vertical, Horizontal ou Lateral.
- III. Ativo, Semi-ativo ou Inativo.

Assinale a alternativa CORRETA.

- A) Apenas a afirmativa I está correta.
- B) Apenas a afirmativa II está correta.
- C) Apenas as afirmativas I e III estão corretas.
- D) Apenas a afirmativa III está correta.
- E) Apenas as afirmativas I e II estão corretas.

25. O método de arquivamento numérico, pode ser de duas maneiras. Assinale a alternativa CORRETA.

- A) Decimal ou automático.
- B) Por assunto ou geográfico.
- C) Simples ou duplex.
- D) Específico ou simples.
- E) Simples ou variadex.

26. Você trabalha em uma empresa que utiliza o método alfabético de arquivamento, por nomes de pessoas, devendo ser:

I. Em primeiro lugar deve constar o último sobrenome, em segundo o prenome e em terceiro o(s) outro(s) prenome(s) e/ou sobrenomes.

II. Em primeiro lugar deve constar o primeiro prenome, em segundo o(s) outro(s) prenomes e em terceiro o(s) sobrenome(s).

III. Em primeiro lugar deve constar o último sobrenome, em segundo o(s) outro(s) sobrenome(s) e em terceiro o primeiro prenome.

Assinale a alternativa CORRETA.

- A) Apenas as afirmativas I e III estão corretas.
- B) Apenas a afirmativa I está correta.
- C) Apenas a afirmativa II está correta.
- D) Apenas a afirmativa III está correta.
- E) Apenas as afirmativas II e III estão corretas.

27. O arquivo deve ser organizado de maneira que proporcione condições de:

- A) Segurança, informatização, promoção, flexibilidade e acesso.
- B) Simplicidade, flexibilidade, disponibilidade, acesso e tecnologia.
- C) Segurança, acesso, tecnologia, disponibilidade e simplicidade.
- D) Acesso, precisão, disponibilidade, informatização e segurança.
- E) Segurança, precisão, simplicidade, flexibilidade e acesso.

28. O administrador de uma empresa desempenha suas funções por meio de quatro processos, que são.

I. Planejamento, organização, direção e controle.

II. Organização, direção, coordenação e controle.

III. Idealização, organização, coordenação e controle.

IV. Coordenação, idealização, direção e comando.

Assinale a alternativa CORRETA.

- A) Apenas a alternativa III está correta.
- B) Apenas a alternativa II está correta.
- C) Apenas a alternativa I está correta.
- D) Apenas a alternativa IV está correta.
- E) Nenhuma das alternativas estão corretas.

29. Dentro do processo administrativo, o Controle consiste em:

- I. Determinar o que o grupo de pessoas deve fazer.
- II. Verificar se tudo está sendo feito de acordo com o que foi planejado e as ordens dadas.
- III. Reunir pessoas e os equipamentos necessários para o trabalho.
- IV. Conduzir e coordenar o trabalho do pessoal.

Assinale a alternativa CORRETA.

- A) Apenas a afirmativa II está correta.
- B) Apenas a afirmativa I está correta.
- C) Apenas a afirmativa III está correta.
- D) Apenas a afirmativa IV está correta.
- E) Nenhuma das alternativas está correta.

30. O recrutamento de pessoas consiste em:

- I. Atrair pessoas que possuam qualificações necessárias para o preenchimento dos cargos existentes na empresa.
- II. Ir à procura de pessoas que possuam qualificações necessárias para o preenchimento dos cargos existentes na empresa.
- III. Procurar os trabalhadores necessários para a empresa.
- IV. Arranjar pessoas qualificadas e polivalentes.

Assinale a alternativa CORRETA.

- A) Apenas as afirmativas I, III e IV estão corretas.
- B) Apenas as afirmativas I e IV estão corretas.
- C) Apenas as afirmativas II e III estão corretas.
- D) Apenas as afirmativas I, II, III e IV estão corretas.
- E) Apenas as afirmativas II e IV estão corretas.

31. O recrutamento de pessoas normalmente costuma ser feito por meio de:

- I. Exclusivamente pela divulgação de uma oportunidade em jornais.
- II. Empresas que prestam serviços de recrutamento e seleção.
- III. Empresas que prestam serviços de caça talentos.
- IV. Divulgação pela internet no site da empresa.

Assinale as alternativas CORRETAS.

- A) Apenas as afirmativas I, III e IV estão corretas.
- B) Apenas as afirmativas I e II estão corretas.
- C) Apenas as afirmativas II, III e IV estão corretas.
- D) Apenas as afirmativas II e IV estão corretas.
- E) Apenas as afirmativas III e IV estão corretas.

32. O edital é uma cientificação ou ordem publicada em lugar público. Assinale a alternativa CORRETA que indica o lugar normalmente utilizado para divulgação de editais.

- A) Diário Alocado.
- B) Diário Particular.
- C) Diário Reservado.
- D) Diário Abrigado.
- E) Diário Oficial.

33. O ofício é o meio de comunicação por escrito usualmente utilizado por órgãos do _____.
Assinale a alternativa CORRETA que completa a frase.

- A) Serviço prestativo.
- B) Serviço comum.
- C) Serviço notório.
- D) Serviço correioeiro.
- E) Serviço público.

34. O meio de comunicação utilizada para registrar documentos para o controle de recebimento interno e externo recebe qual denominação?

- A) Protocolo.
- B) Regimento.
- C) Memorando.
- D) Ata.
- E) Parecer.

35. O meio de comunicação por escrito do tipo memorando por ser dividido em:

- I. Memorando interno.
- II. Memorando protocolar.
- III. Memorando interno e ofício.
- IV. Memorando inter-relacional.

Assinale a alternativa CORRETA.

- A) Apenas a alternativa IV está correta.
- B) Apenas as alternativas I e III estão corretas.
- C) Apenas as alternativas I e II estão corretas.
- D) Apenas as alternativas I está correta.
- E) Apenas as alternativas III e IV estão corretas.

36. A redação oficial caracteriza-se por:

- I. Uso do padrão culto de linguagem.
- II. Clareza.
- III. Impessoalidade.
- IV. Uniformidade.
- V. Uso do padrão coloquial de linguagem.
- VI. Pessoalidade.

Assinale a alternativa CORRETA.

- A) Apenas as alternativas II, III e V estão corretas.
- B) Apenas as alternativas I, II, III e IV estão corretas.
- C) Apenas as alternativas I, V e VI estão corretas.
- D) Apenas as alternativas III, IV, V e VI estão corretas.
- E) Apenas as alternativas I, II e VI estão corretas.






37. Assinale a alternativa CORRETA que indica os tipos de fechos utilizados nas comunicações oficiais.

- A) Atenciosamente e Afetuosamente.
- B) Carinhosamente e Respeitosamente.
- C) Respeitosamente e Atenciosamente.
- D) Respeitosamente e Afetivamente.
- E) Consideravelmente e Carinhosamente.

38. Para fazer uma apresentação em uma reunião, qual o programa mais adequado para a exposição de slides? Assinale a alternativa CORRETA.

- A) Word.
- B) Power Point.
- C) Excel.
- D) Paint.
- E) PDF.

39. Assinale a alternativa CORRETA que indica o ícone que tem a função de Mostrar Comentários, no programa Microsoft Word.

- A) 
- B) 
- C) 
- D) 
- E) 

40. Você está trabalhando em um documento do Microsoft Word e sabe que pode deixar o arquivo em alguns formatos de exibição. Assinale a alternativa CORRETA que indica um modo de exibição disponível no Microsoft Word.

- A) Modo de régua.
- B) Modo de livro.
- C) Modo de caderno.
- D) Modo de leitura.
- E) Modo de grade.